

8 ТАРАУ


Көбейту және бөлу

Жемістер туралы қызықты деректер

Жемістер туралы қызықты деректер

- Барлығы
- Суреттер**
- Жаңалықтар
- Видеолар
- Карта
- Тағы

ЖЕМІСТЕР ТУРАЛЫ 10 ҚЫЗЫҚТЫ ДЕРЕКТЕР!



1

ҚАРАС

3-ке көбейту

Кіріспе
тапсырма



Алма қоректік зат.



Алманың жалпы санын анықтау жолдарын қарастыр.

Достарымыздың
ойы



жолы



3, 6, 9, 12, 15, 18, 21

1

2

3

4

5

6

7

7 рет үш = 21

$7 \times 3 = 21$



Таңбаларды пайдаланып, 7 рет үшті осылай жазамыз.

Барлығы 21 алма бар.



ЖОЛЫ

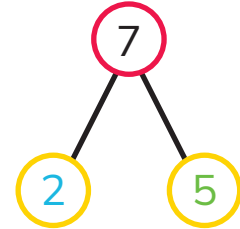


3-тен 2 топ $2 \times 3 = 6$

3-тен 5 топ $5 \times 3 = 15$

3-тен 7 топ $7 \times 3 = 6 + 15 = \square$

Барлығы 21 алма бар.



Жетек жұмыс



1

$2 \times 3 = 6$

$3 \times 3 = 6 + \square$



3-тен 2 топ = 6
2 рет үш = 6

2

$5 \times 3 = 15$

$6 \times 3 = 15 + \square$



3-тен 5 топ = 15
5 рет үш = 15

3

$3 \times 3 = 9$

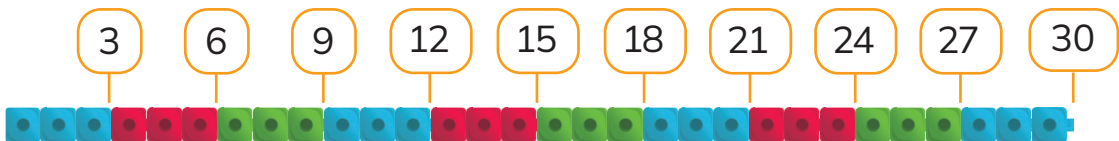
$6 \times 3 = \square$

$9 \times 3 = \square$

4

$5 \times 3 = 15$

$10 \times 3 = \square + \square$



Жұмыс дәптерінен 1-тапсырманы орында, 1-2 беттер