

ФИО: _____

Класс: _____

Дата: _____

Задание 1

1  Посчитай.



Считать по порядку от 1 до 10.



Считать в обратном порядке от 10 до 1.

2  Считать до 10.



От цифры 4.



От цифры 3.

3  Считать в обратном порядке от 10.



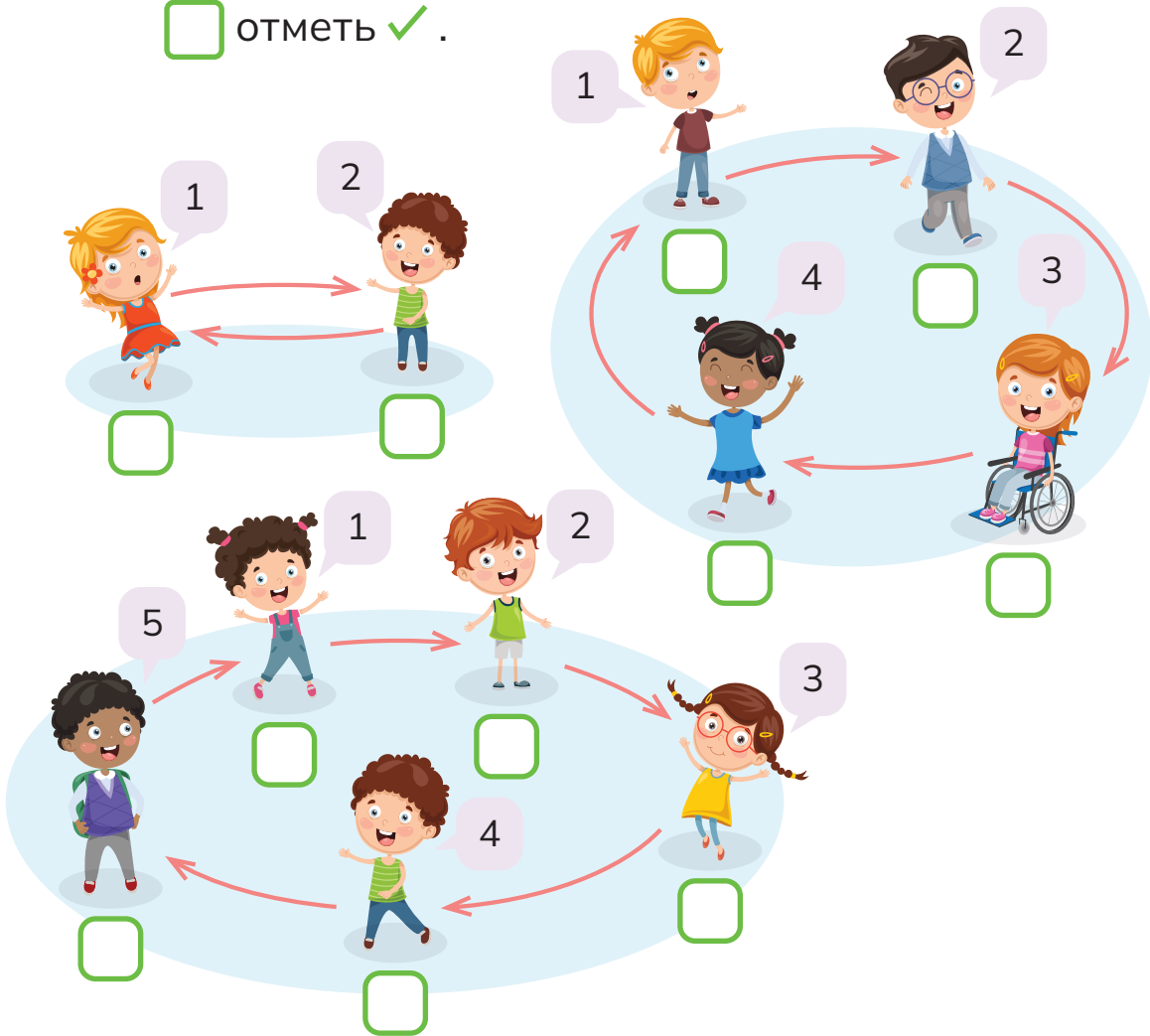
От цифры 4.



От цифры 3.

4

Кто сказал цифру 10 при счете?

 отметь ✓.

2023 © Shing Lee Publishers Pte Ltd

Оцени себя

- Я сделал задание самостоятельно.
- Мне нужна была помощь в выполнении моей задачи.
- Мне нужна была дополнительная помощь в выполнении задачи.

ФИО: _____

Класс: _____ Дата: _____

Задание 2

- 1 Сколько фруктов в каждой миске?
Сопоставь.

1 ●




● 6

2 ●



● 7

3 ●



● 8

4 ●



● 9

5 ●

● 10

- 2 Сколько бананов в каждом пучке?



 бананов



 бананов




 бананов

3

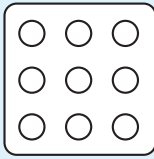


отображает числа через точки.

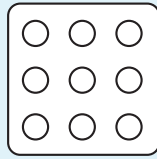
Показывает цифру 5 так.



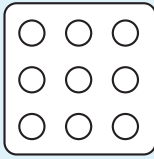
покажите следующие числа с помощью используемого подхода.



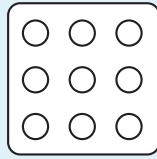
2



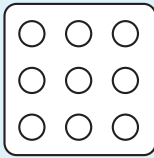
3



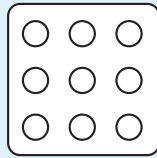
8



8



7



7

Покажите число 8 двумя разными способами.

Покажите число 7 двумя разными способами.



2023 © Shing Lee Publishers Pte Ltd

Оцени себя

- Я сделал задание самостоятельно.
- Мне нужна была помощь в выполнении моей задачи.
- Мне нужна была дополнительная помощь в выполнении задачи.