

Аты-жөні: _____

Сыныбы: _____ Күні: _____

1-тапсырма

1 Сандық қатарды аяқта.

3, 6, , 12, 15, , , 24, 27,

2 Бос орындарды санмен толтыр.



3 рет үш = 9

5 рет үш =

2 рет үш =

10 рет үш =

3 Көбейт және сәйкестендір.

$3 \times 3 =$

$4 \times 3 =$

$8 \times 3 =$

$6 \times 3 =$

$9 \times 3 =$

$3 + 3$

$3 + 3 + 3$

$3 + 3 + 3 + 3 + 3 + 3$


$3 + 3 + 3 + 3 + 3 + 3 + 3 + 3 + 3$

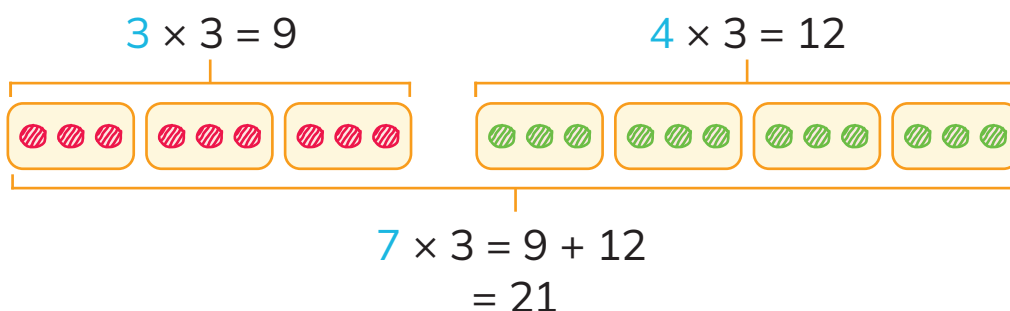
$3 + 3 + 3 + 3 + 3 + 3 + 3 + 3$

$3 + 3 + 3 + 3 + 3$

$3 + 3 + 3 + 3$

4

 көбейту үшін көмек ретінде қосуды қолданады.



Көбейту үшін  жолын қолдан.

$2 \times 3 = 6$

$4 \times 3 = 12$

$$6 \times 3 = \square + \square$$

$$= \square$$

$$9 \times 3 = \square + \square$$

$$= \square$$

$3 \times 3 = 9$

$5 \times 3 = 15$

$$8 \times 3 = \square + \square$$

$$= \square$$

$$12 \times 3 = \square + \square$$

$$= \square$$

Өзіңді сынап көр.



Өзіңді бағала

- Мен тапсырманы өз бетімше орындадым.
- Менің тапсырманы орындауыма біраз көмек қажет болды.
- Менің тапсырманы орындауыма көбірек көмек қажет болды.

Аты-жөні: _____

Сыныбы: _____ Күні: _____

2-тапсырма

1 Сандық қатарды аяқта.

4, 8, , 16, 20, , , 32, 36,

2 Бос орындарды санмен толтыр.



3 рет төрт = 12

2 рет төрт =

5 рет төрт =

10 рет төрт =

3 Көбейт және сәйкестендір.

$3 \times 4 =$



$4 + 4 + 4$

$4 \times 4 =$



$4 + 4 + 4 + 4$

$8 \times 4 =$



$4 + 4 + 4 + 4 + 4 + 4 + 4$

$6 \times 4 =$



$4 + 4 + 4 + 4 + 4 + 4 + 4 + 4 + 4$

$9 \times 4 =$














$4 + 4 + 4 + 4 + 4 + 4 + 4 + 4$



$4 + 4 + 4 + 4 + 4 + 4$

4











9 × 4 көрсету үшін  жасайды.

					$9 \times 4 = 40 - 4$ $= 36$
					













жолын қолданып, төмендегілерді көрсет.

8 × 4

					$8 \times 4 = 40 - \square$ $= \square$
					

7 × 4

					$7 \times 4 = 40 - \square$ $= \square$
					

2023 © Shing Lee Publishers Pte Ltd

Өзіңді бағала

- Мен тапсырманы өз бетімше орындадым.
- Менің тапсырманы орындауыма біраз көмек қажет болды.
- Менің тапсырманы орындауыма көбірек көмек қажет болды.