

Аты-жөні: \_\_\_\_\_

Сыныбы: \_\_\_\_\_ Күні: \_\_\_\_\_

## 1-тапсырма

1

Сана.



1-ден 10-ға  
дейін тура  
ретпен сана.



10-нан 1-ге  
дейін кері  
ретпен сана.

2

10-ға дейін сана.



4-тен бастап.



3-тен бастап.

3

10-нан кері ретпен сана.



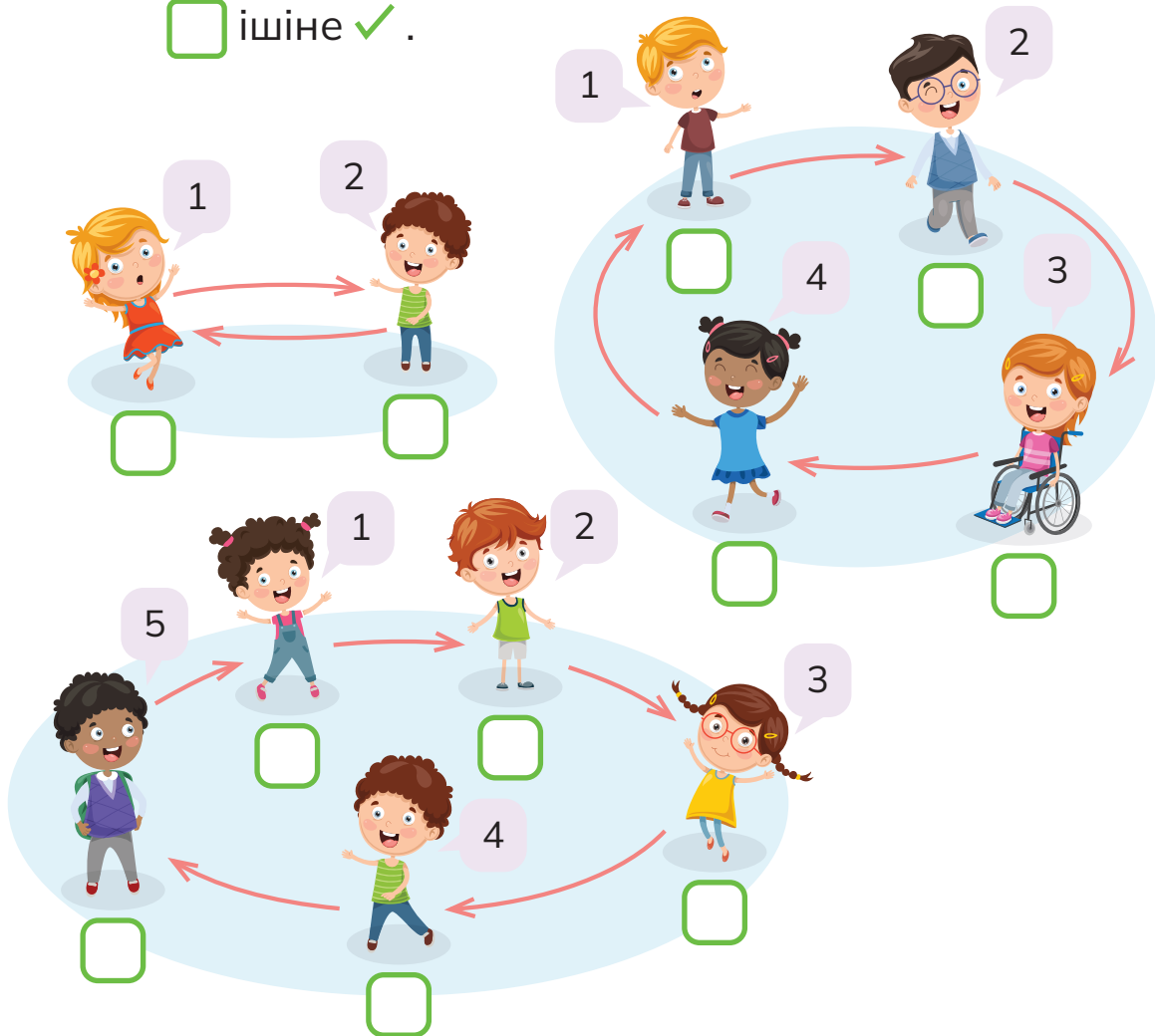
4-тен бастап.



3-тен бастап.

4 Кезектесіп санағанда 10 санын кім айтады?

ішіне ✓ .



2022 © Shing Lee Publishers Pte Ltd

### Өзіңді бағала

- Мен тапсырманы өз бетімше жасадым.
- Менің тапсырманы орындауыма біраз көмек қажет болды.
- Менің тапсырманы орындауыма көбірек көмек қажет болды.

Аты-жөні: \_\_\_\_\_

Сыныбы: \_\_\_\_\_ Күні: \_\_\_\_\_

## 2-тапсырма

1 Әр ыдыста неше жеміс бар?  
Сәйкестендір.


1 ● ● ● ● ● 6



2 ● ● ● ● ● 7



3 ● ● ● ● ● 8



4 ● ● ● ● ● 9

5 ● ● ● ● ● 10

2 Әр шоқта қанша банан бар?



банан



банан




банан

3




сандарды нүктелер арқылы көрсетеді.

5 санын осылай көрсетеді.

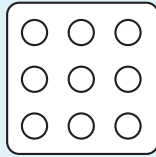


қолданған тәсіл арқылы төмендегі


сандарды көрсет.



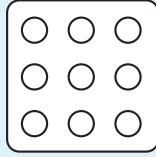
2



3




8

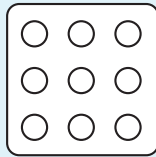


8

8 санын екі түрлі тәсілмен көрсет.



7



7

7 санын екі түрлі тәсілмен көрсет.



### Өзіңді бағала

- Мен тапсырманы өз бетімше жасадым.
- Менің тапсырманы орындауыма біраз көмек қажет болды.
- Менің тапсырманы орындауыма көбірек көмек қажет болды.