

Аты-жөні: _____

Сыныбы: _____ Күні: _____

1-тапсырма

1 Мыңдықпен сана.

3000, 4000, , 6000, 7000, 8000, 9000,

Он мыңдықпен сана.

10 000, 20 000, , 40 000, 50 000, , 70 000

Он мыңдықпен кері сана.

90 000, 80 000, 70 000, 60 000, , 40 000, 30 000,

2 Сандық дискілермен берілген сандарды цифрмен және жазбаша жаз.

цифрмен

жазбаша

10 000 10 000

10 000 10 000 10 000 10 000 10 000

10 000 10 000 10 000 10 000 10 000

10 000 10 000 10 000 10 000 10 000

3 Жазбаша және цифрмен жазылған сандарды сәйкестендір.

елу мың

қырық мың

жетпіс мың

алпыс мың

4000 40 000 5000 50 000 6000 60 000 7000 70 000

4 <, = немесе > қолданып, сандар жұбын салыстыр.

30 000 90 000

10 000 9000

100 000 90 000

5  70 000 санын жазбаша «жеті мың» деп жазды.

Ол неге қате жазғанын түсіндір.

Өзіңді бағала

- Мен тапсырманы өз бетімше орындадым.
- Менің тапсырманы орындауыма біраз көмек қажет болды.
- Менің тапсырманы орындауыма көбірек көмек қажет болды.

Аты-жөні: _____

Сыныбы: _____ Күні: _____

2-тапсырма

Бір жылы Сингапур ұлттық университетінде 31 827 студент оқыды. Олардың 16 413 ер және 15 414 қыз болды.

- 1 31 827 санында,
1 цифры білдіреді.
2 цифры білдіреді.
3 цифры білдіреді.

7 цифры
бірлік
разрядында
тұр.



8 цифры 800
білдіреді.


- 2 16 413 санында,
4 цифры білдіреді.
6 цифры білдіреді.

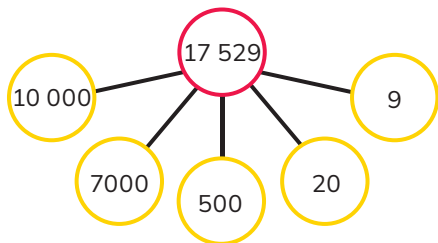
- 3 15 414 санында, 5 цифры білдіреді.

- 4 Стэнфорд университетінде бір жылы 17 529 студент оқыды. Сол жылы университетке 56 378 оқушы тапсырды. Бос орындарды сәйкес цифрмен толтыр.


$$17\ 529 = \text{ он мыңдық} + \text{ мыңдық} \\ + \text{ жүздік} + \text{ ондық} + \text{ бірлік}$$

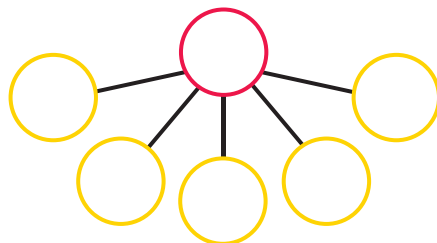
$$56\ 378 = \text{ он мыңдық} + \text{ мыңдық} \\ + \text{ жүздік} + \text{ ондық} + \text{ бірлік}$$

5  17 529 санын екі жолмен жазады.



$$31\ 827 = 10\ 000 + 7000 + 500 + 20 + 9$$

 жолдарын қолданып, 31 827 жаз.



$$31\ 827 = \boxed{} + \boxed{} + \boxed{} + \boxed{} + \boxed{}$$

6  31 827 санын разрядтық кестемен көрсетеді.

он мыңдық	мыңдық	жүздік	ондық	бірлік
3	1	8	2	7

Йорк университетінде 14 075 студент болды.
 Экзетер университетінде 20 320 студент болды.
 Разрядтық кестені қолданып, 14 075 және 20 320 сандарын көрсет.

он мыңдық	мыңдық	жүздік	ондық	бірлік

Өзіңді бағала

- Мен тапсырманы өз бетімше орындадым.
- Менің тапсырманы орындауыма біраз көмек қажет болды.
- Менің тапсырманы орындауыма көбірек көмек қажет болды.