

Аты-жөні: _____

Сыныбы: _____ Күні: _____

1-тапсырма

1 Бірдей сандарды сәйкестендір.

$$\frac{9}{10}$$

$$3\frac{1}{10}$$

$$\frac{1}{10}$$

$$3\frac{3}{10}$$




0.1

0.3


0.9

1.3

3.1

2 Егер  1-ді білдірсе, келесілердің әрқайсысы қандай санды білдіретінін жай бөлшек және ондық бөлшек түрінде жаз.

жай бөлшек ондық бөлшек

(a) 

$$\frac{1}{10}$$

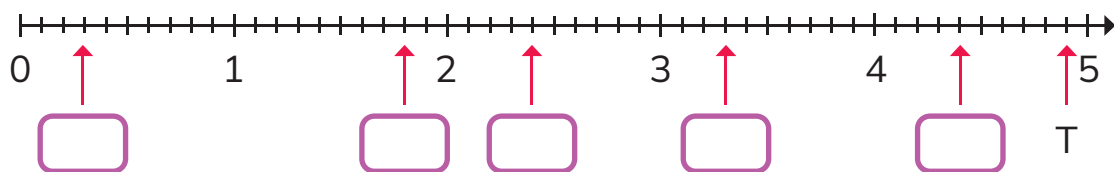
0.1

(ә) 

(б) 

(в) 

- 3 Сан түзуінде берілген сандарды ондық бөлшек түрінде жаз.



T нүктесі 5.1 білдіреді дейді.

Ол дұрыс айтты ма?

Дұрыс жауапты қорша.

Иә / Жоқ

Түсіндір.

- 3 9.4 пен 9.6 дәл ортасында орналасқан санды жаз.

10.8 бен 11.1 арасында орналасқан кез келген екі санды жаз.

 және

Өзіңді бағала

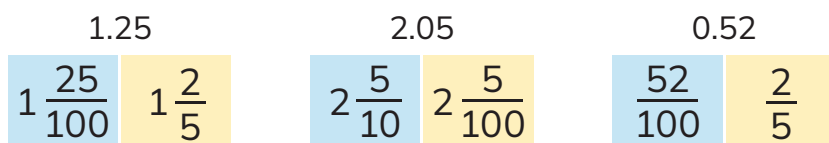
- Мен тапсырманы өз бетімше орындадым.
- Менің тапсырманы орындауыма біраз көмек қажет болды.
- Менің тапсырманы орындауыма көбірек көмек қажет болды.

Аты-жөні: _____

Сыныбы: _____ Күні: _____




2-тапсырма

- 1 Келесі үш сан үшін берілген жұптың ішінен сол санға тең болатынын қорша.

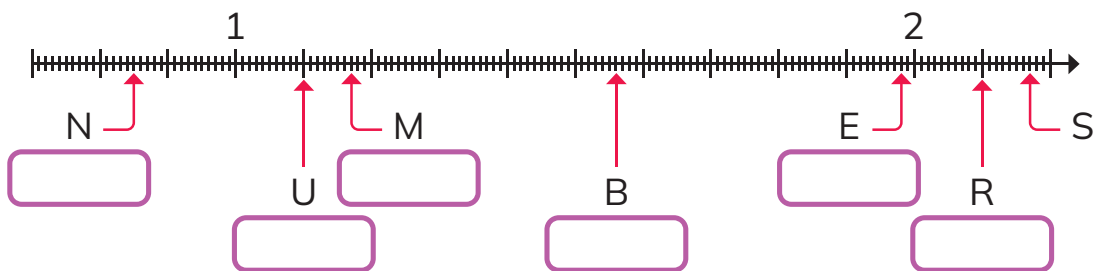


- 2  1-ді білдіреді.

Ондық блоктармен берілген санды ондық бөлшек түрінде және жазбаша жаз.

ондық блоктармен берілген сан	ондық бөлшек	жазбаша
	<input type="text"/>	_____
	<input type="text"/>	_____
	<input type="text"/>	_____

- 3 N, U, M, B, E және R нүктелерімен берілген ондық бөлшектерді жаз.



S нүктесі 2.23 білдіреді дейді.

Ол дұрыс айтты ма? Дұрыс жауапты қорша. **Иә / Жоқ**
Түсіндір.

- 4 6.3 пен 6.4 дәл ортасында орналасқан санды жаз.

6.3 пен 6.4 арасында орналасқан кез келген санды жаз.

 және

Өзіңді бағала

- Мен тапсырманы өз бетімше орындадым.
- Менің тапсырманы орындауыма біраз көмек қажет болды.
- Менің тапсырманы орындауыма көбірек көмек қажет болды.