

ФИО: \_\_\_\_\_

Класс: \_\_\_\_\_ Дата: \_\_\_\_\_

## Задание 1

1 Сопоставь числа.

$$\frac{9}{10}$$

$$3\frac{1}{10}$$

$$\frac{1}{10}$$

$$3\frac{3}{10}$$


$$0.1$$





$$0.3$$

$$0.9$$

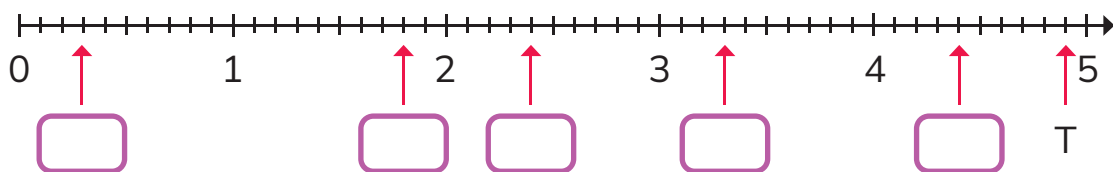
$$1.3$$

$$3.1$$

2 Если  обозначает 1, запиши число, которое представляет каждое из следующих, как обыкновенную дробь и как десятичную дробь.

|   | обыкновенная дробь   | десятичная дробь     |
|---|----------------------|----------------------|
| (а)  | $\frac{1}{10}$       | 0.1                  |
| (б)  | <input type="text"/> | <input type="text"/> |
| (в)  | <input type="text"/> | <input type="text"/> |
| (г)  | <input type="text"/> | <input type="text"/> |

- 3 Запиши каждое число на числовом луче как десятичную дробь.



считает, что точка Т обозначает 5,1.

Он прав?

Обведи правильный ответ. **Да / нет**

Объясни.

---

---

- 3 Запиши число, которое находится точно между 9,4 и 9,6.

Запиши любые два числа, которые находятся между 10,8 и 11,1.

и

Оцени себя

- Я сделал это сам.
- Мне помогли это сделать.
- Мне нужна дополнительная помощь.

ФИО: \_\_\_\_\_

Класс: \_\_\_\_\_ Дата: \_\_\_\_\_




## Задание 2

- 1 Обведи число в каждой паре, которое равно каждому из этих трех чисел.

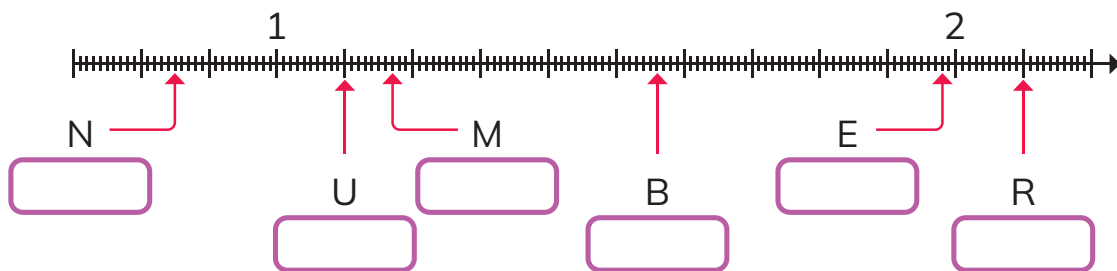
|                                    |                                    |                                |
|------------------------------------|------------------------------------|--------------------------------|
| 1.25                               | 2.05                               | 0.52                           |
| $1 \frac{25}{100}$ $1 \frac{2}{5}$ | $2 \frac{5}{10}$ $2 \frac{5}{100}$ | $\frac{52}{100}$ $\frac{2}{5}$ |

- 2  обозначает 1.

Запиши число, представленное каждой группой десятичных блоков в виде десятичной дроби и прописью.

| число, представленное десятичными блоками   | в виде десятичной дроби   | прописью   |
|---|---|--|
|  | <input style="width: 80px; height: 30px; border: 1px solid purple;" type="text"/> | <hr style="border: 0.5px solid green;"/> <hr style="border: 0.5px solid green;"/> <hr style="border: 0.5px solid green;"/> |
|  | <input style="width: 80px; height: 30px; border: 1px solid purple;" type="text"/> | <hr style="border: 0.5px solid green;"/> <hr style="border: 0.5px solid green;"/> <hr style="border: 0.5px solid green;"/> |
|  | <input style="width: 80px; height: 30px; border: 1px solid purple;" type="text"/> | <hr style="border: 0.5px solid green;"/> <hr style="border: 0.5px solid green;"/> <hr style="border: 0.5px solid green;"/> |

- 3 Запиши десятичные дроби, обозначенные точками N, U, M, B, E и R.



считает, что точка S обозначает 2,23.

Она права? Обведи правильный ответ. **Да / нет**  
Объясни.

---

---

- 4 Запиши число, которое находится точно между 6,3 и 6,4.

Запиши еще два числа, которые находятся между 6,3 и 6,4.  и

Оцени себя

- Я сделал это сам.  
 Мне помогли это сделать.  
 Мне нужна дополнительная помощь.